

Chào mừng quý thầy cô giáo về tham dự môn

Toán 2

Chủ đề: CÁC SỐ TRONG PHẠM VI 1000

Lớp 2C

01

KHOI

ĐÔNG



CHỦ ĐỀ 10

CÁC SỐ TRONG PHẠM VI 1000



BÀI 51:
SỐ CÓ BA CHỮ SỐ






2

•

KHÁM

PHÁ





Khám phá

	Trăm	Chục	Đơn vị	Viết số	Đọc số

**HOẠT
ĐỘNG**



1 Tìm cá cho mèo.

Bốn trăm
hai mươi bảy.

Bảy trăm
hai mươi tư.

Hai trăm
bốn mươi bảy.

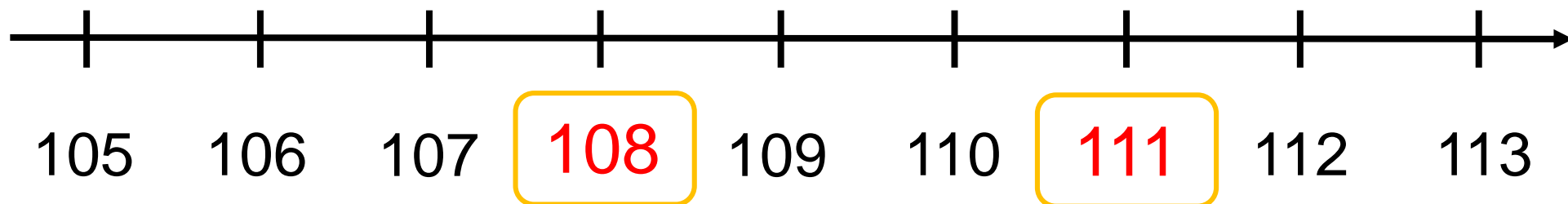
Bốn trăm
bảy mươi hai.



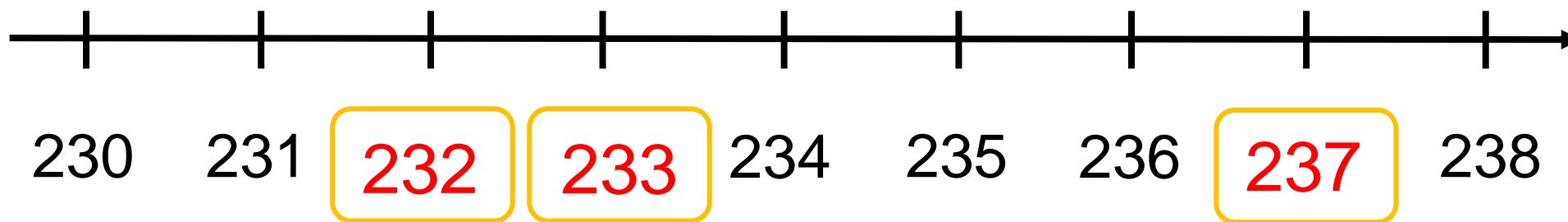


2 Đếm rồi so sánh các số tròn chục.

a)



b)

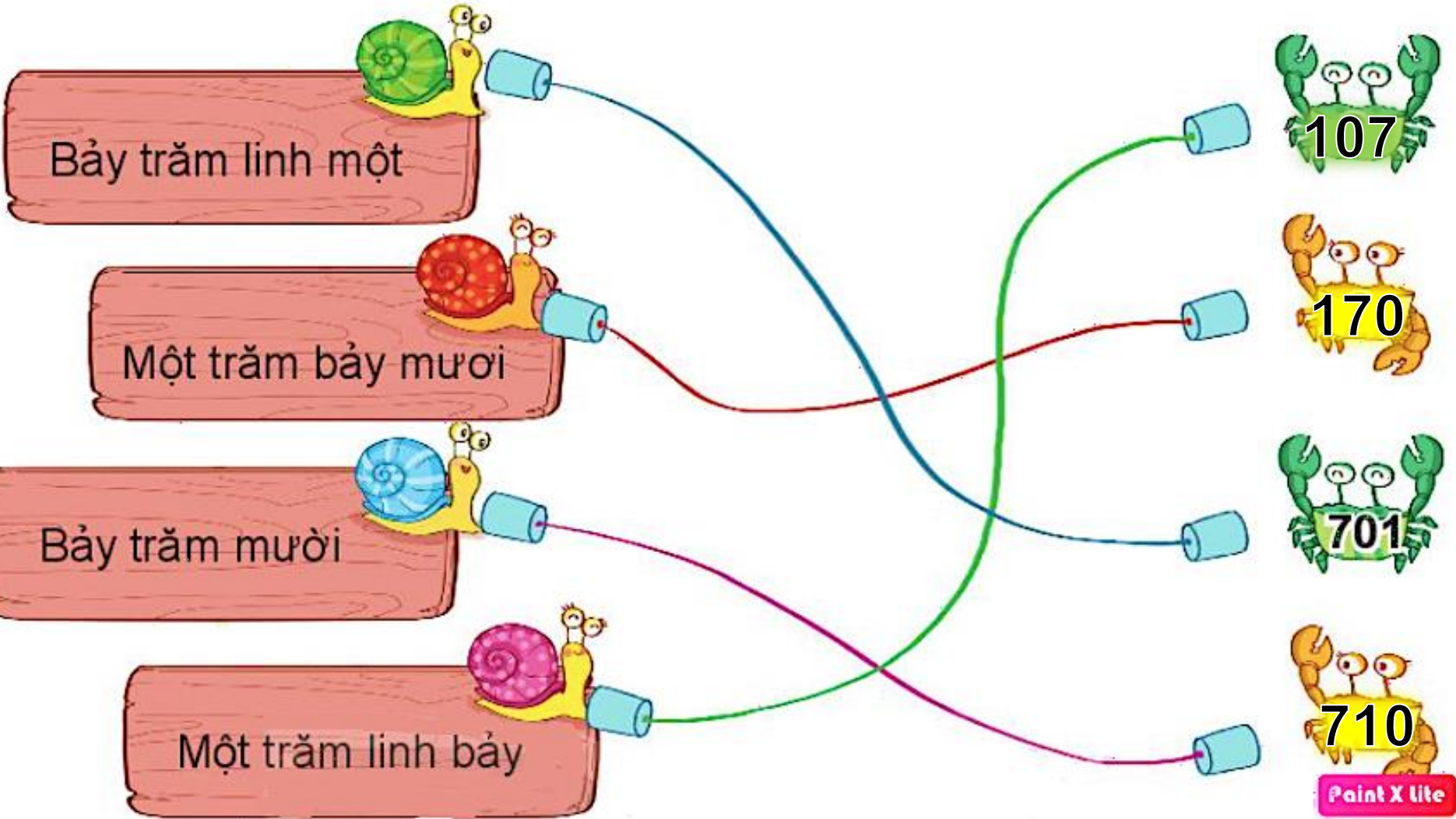




hoạt động

3

Số ?






4

Viết, đọc số biết số đó gồm:

Số gồm	Viết số	Đọc số
7 trăm, 4 chục, 9 đơn vị		
1 trăm, 1 chục, 4 đơn vị		
5 trăm, 6 chục, 0 đơn vị		
8 trăm, 0 chục, 3 đơn vị		

Bảy trăm bốn mươi chín.



749

**LUYỆN
TẬP**



1

Số ?

a)



b)



752

c)



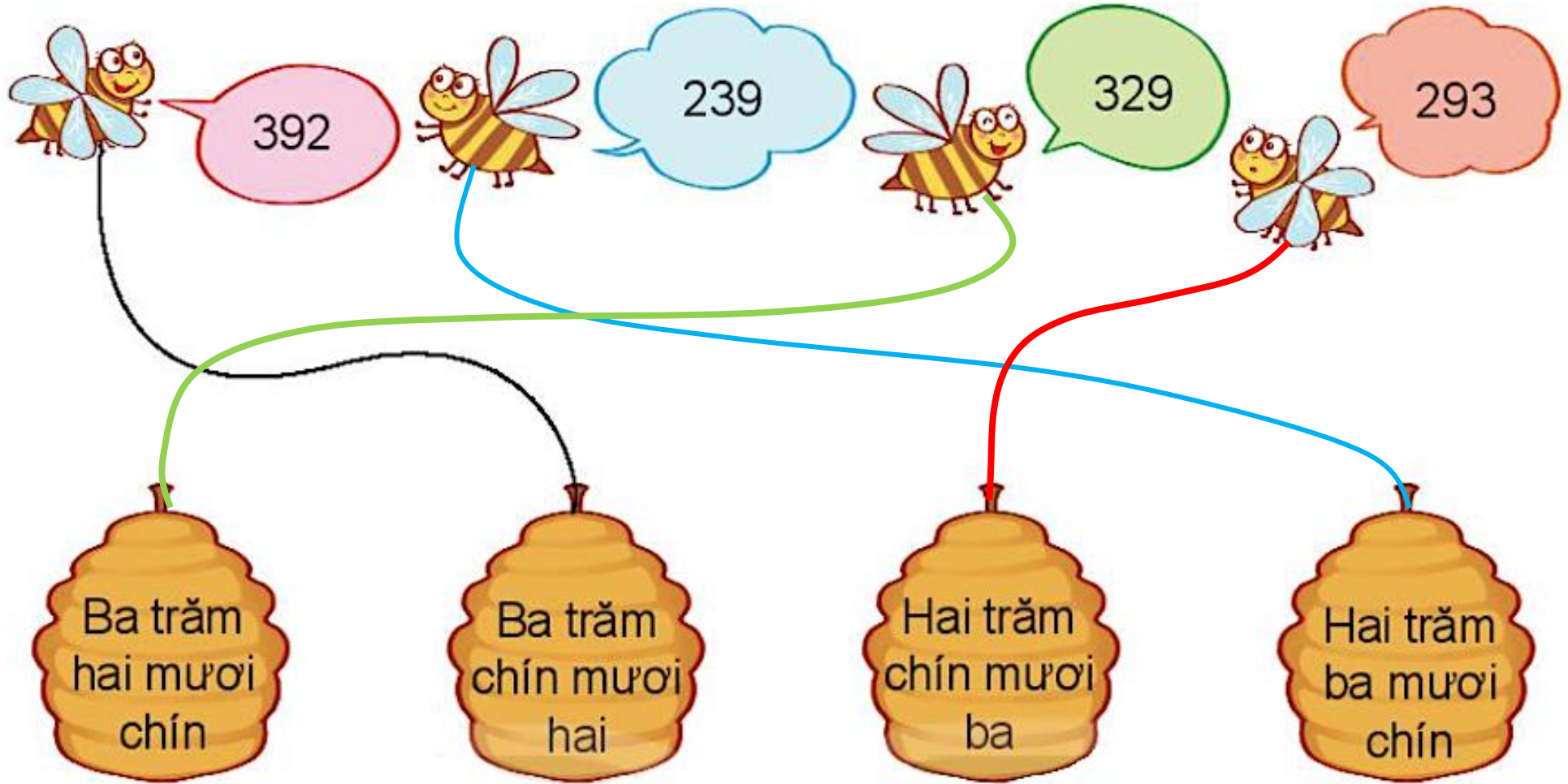
641

d)



475

2 Mỗi chú ong đến từ tổ nào?



3

Mỗi thanh gỗ được sơn bởi màu ở thùng ghi cách đọc số trên thanh gỗ. Hỏi mỗi thanh gỗ được sơn màu gì?

The image shows a bear painting seven wooden planks. Each plank has a number written on it. Below the planks are six paint buckets, each with a Vietnamese number name. Colored lines connect the buckets to the planks they are used to paint.

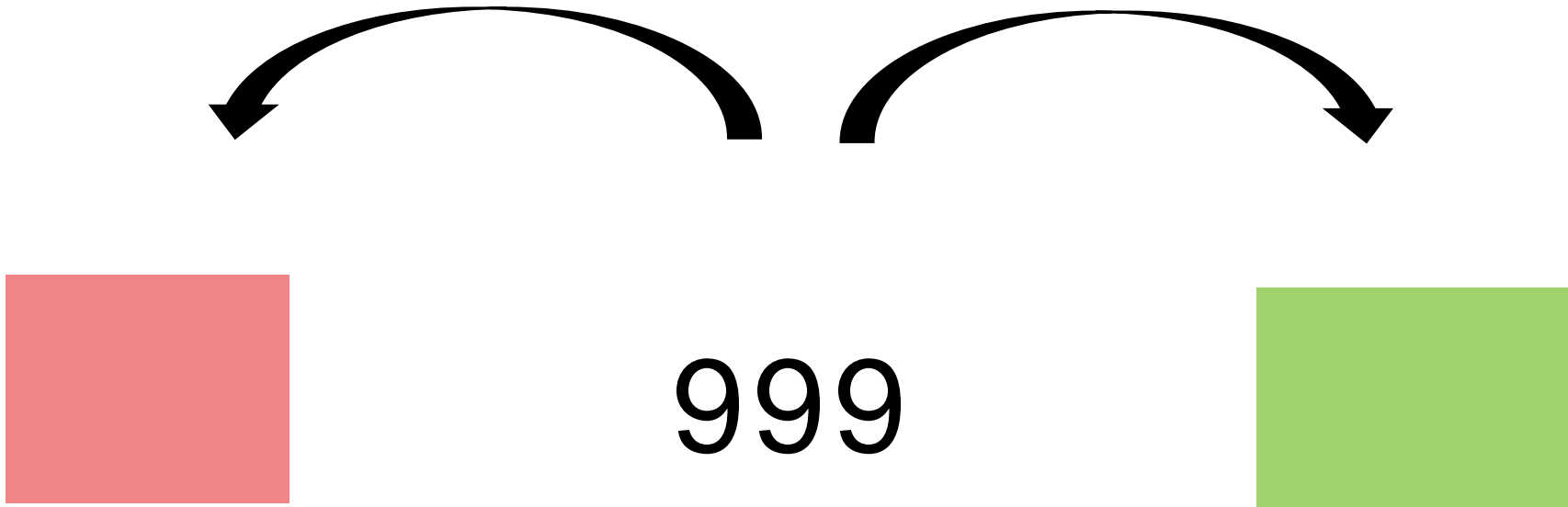
Plank Number	Paint Bucket Label
125	Sáu trăm năm mươi hai
234	Một trăm hai mươi lăm
342	Hai trăm ba mươi tư
423	Ba trăm bốn mươi hai
521	Bốn trăm hai mươi ba
652	Năm trăm mười hai
706	Bảy trăm linh sáu

4 a) Số liền trước của 300 là số nào?



→ Số liền trước của 300 là: 299

4 b) Số liền trước, liền sau của 999 là số nào?



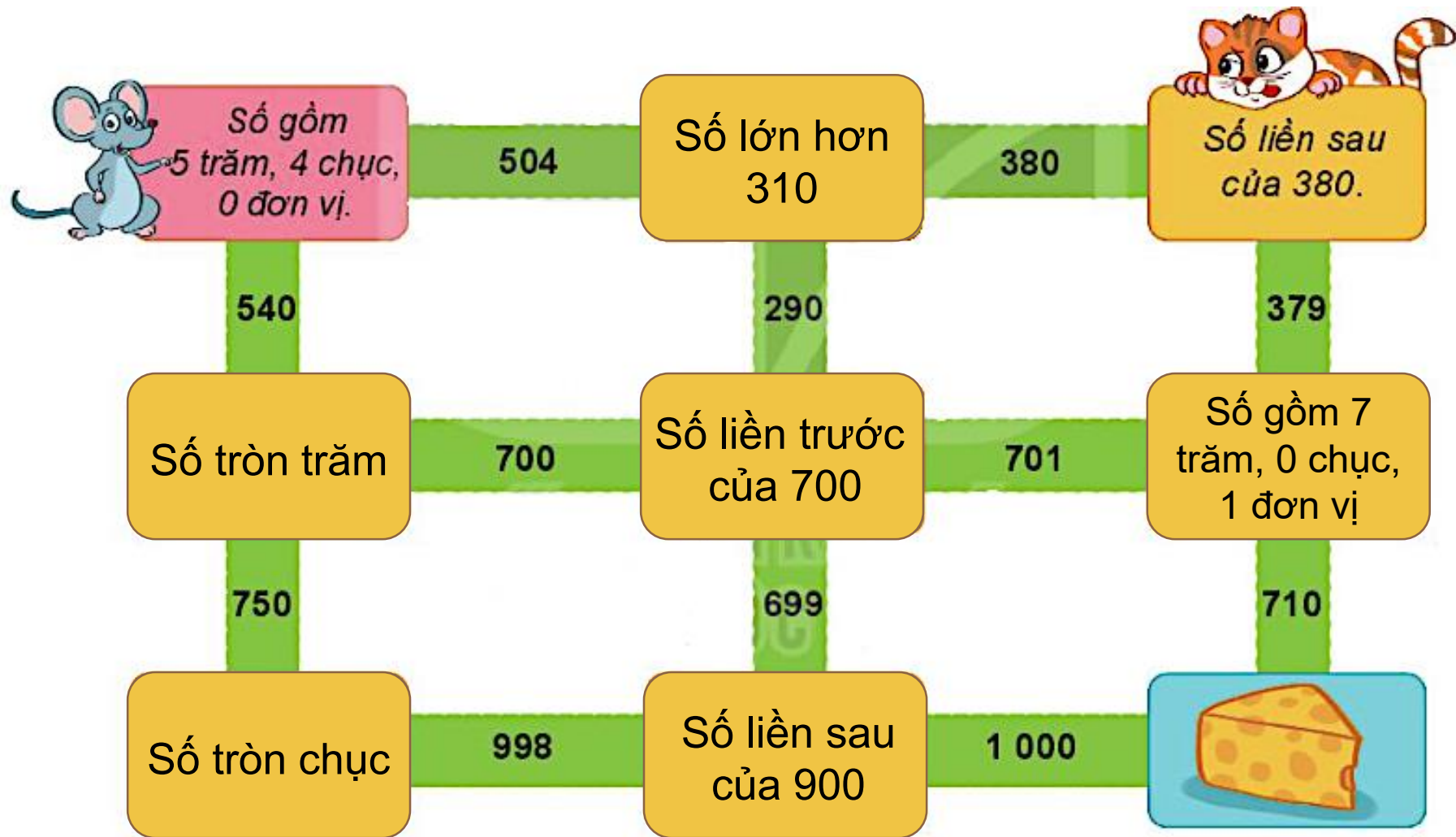
→ Số liền trước của 999 là: 998

→ Số liền sau của 999 là: 1000

**LUYỆN
TẬP**



1 Tìm đường đưa chú chuột đến miếng pho mát, bằng cách đi theo các chỉ dẫn cho trong mỗi ô mà chuột đi qua.



2

Số ?

Số	Số trăm	Số chục	Số đơn vị
630	6	3	0
408	4	0	8
514	5	1	4
970	9	7	0

TRÒ
CHƠI












Trò chơi BỮA TIỆC CỦA CHIM CÁNH CỤT



Chuẩn bị: 1 xúc xắc, 5 quân cờ.

Cách chơi:

- Chơi theo nhóm.
- Khi đến lượt, người chơi gieo xúc xắc và đọc số chấm ở mặt trên. Tìm số thích hợp với mặt xúc xắc ở trong bảng (ví dụ số thích hợp với mặt  là 356). Đặt một quân cờ vào con chim cánh cụt ghi số vừa tìm được.
- Trò chơi kết thúc khi đặt được hết 5 quân cờ.

Số gồm	
	3 trăm, 5 chục, 6 đơn vị
	3 trăm, 5 chục, 0 đơn vị
	3 trăm, 0 chục, 6 đơn vị
	5 trăm, 5 chục, 6 đơn vị
	6 trăm, 3 chục, 3 đơn vị
	6 trăm, 6 chục, 6 đơn vị